

Name: _____

AB: Achsensymmetrie - symmetrischer Schmetterling

Aufgepasst:

Der Schmetterling, den du rechts im Bild siehst, ist symmetrisch. Das bedeutet, dass beide Seiten genau aufeinanderpassen, wenn man ihn in der Mitte von links nach rechts faltet. Sie sind deckungsgleich. Die Faltlinie ist die Symmetrieachse.




Abb. 1

Aufgabe:

Falte ein weißes DIN-A4 Blatt Papier einmal in der Mitte. Male dir einen halben Schmetterling gemäß der Anleitung im Bild auf und schneide diesen aus. Die rote Linie ist die Faltlinie deines weißen Blattes.

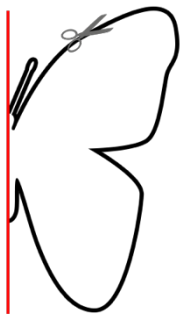


Abb. 2

Klappst du den Schmetterling wieder auf, sollte er wie folgt aussehen:

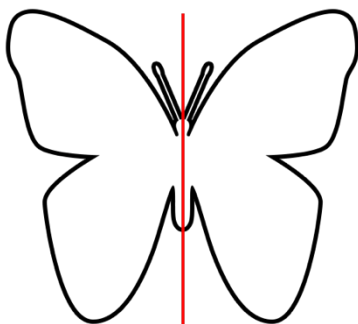


Abb. 3

Male die Flügel anschließend **symmetrisch** an.