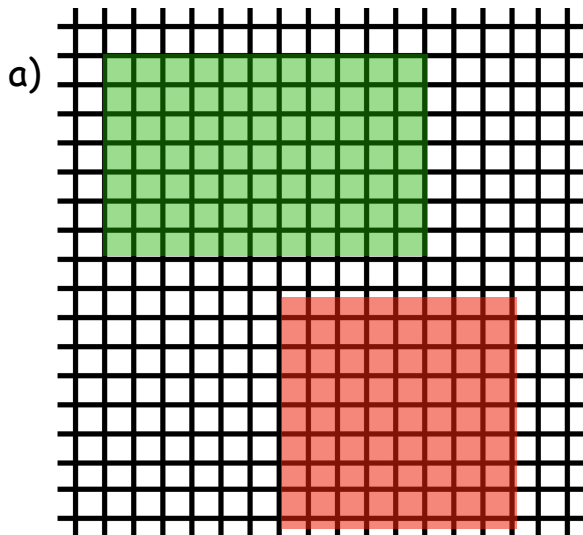


Name: _____

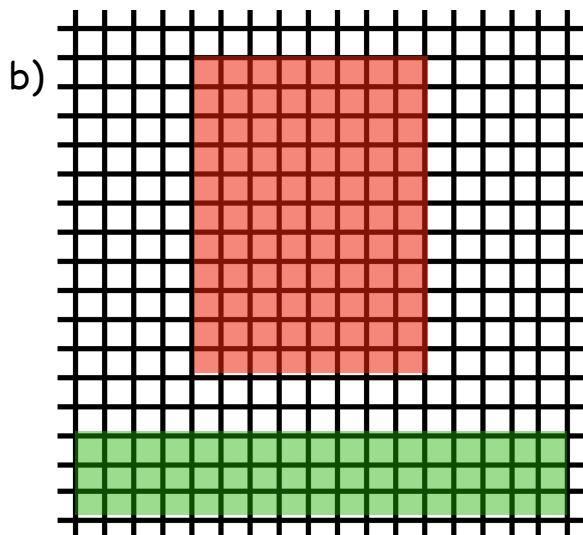
AB: Fläche von Rechtecken und Quadraten

Welches Klassenzimmer ist größer? Schätze zuerst und finden es anschließend heraus, indem du die einzelnen Kästchen in den Flächen auszählst. Notiere ebenfalls wie viele Kästchen jede Form hat.



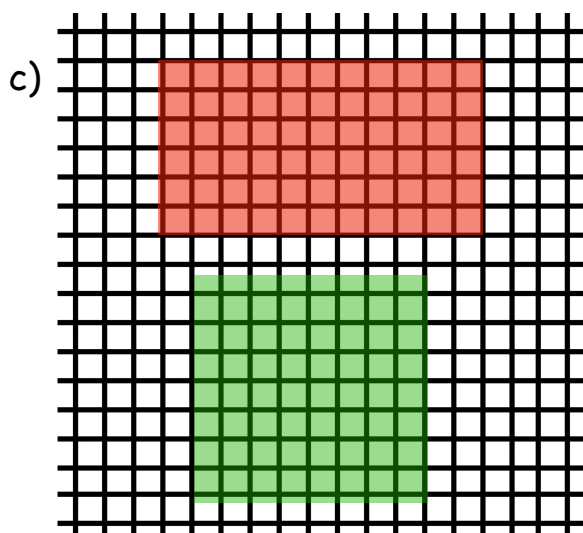
Was schätzt du?

Anzahl der Kästchen:



Was schätzt du?

Anzahl der Kästchen:



Was schätzt du?

Anzahl der Kästchen: